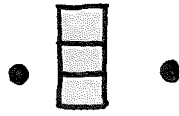

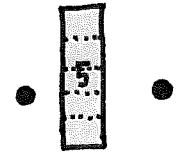
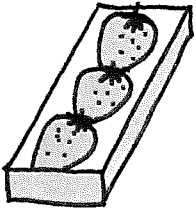


タイルのかくにん

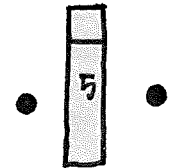

(1) くだものの^{かず}数とタイルと^{かず}数字の^{おな}同じものをさがしてせんでむすぼう。



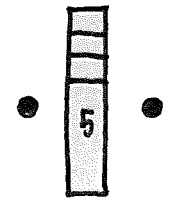

6



3

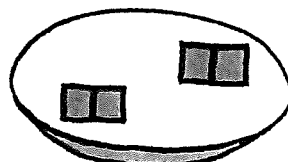
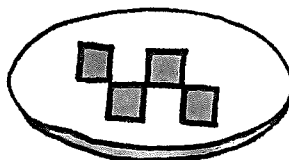
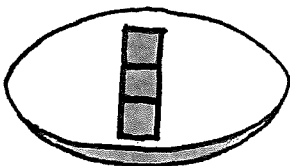
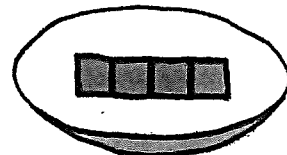
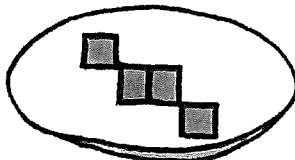
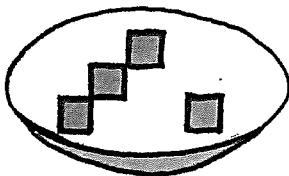
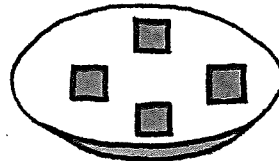

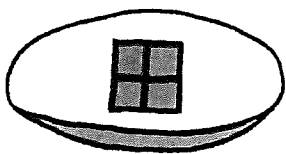


5



8

(2) みんなよりタイルが^{おお}多いおさらと^{すく}少ないおさらをさがそう。



数字のよみかた

(1) 次のよみかたをする数字はどれでしょう。

し、しち、いち、はち
なな、く、よん、きゅう

1、4、7、8、9

(2) 数字をよんでみよう。

4 ()^{がつ} ()^{にん} ()^{しん}
4月 生まれの4人は4まいづつ写真をとるよ。

7 ()^{ほん} ()^{がつ} ()^{あた}
7本のえんぴつを7月に新しく買ったよ。

9 ()^じ ()^{みせ} ()^ま
9時にお店の9かいで待ち合わせよう。

(3) どんなよみかたがあるかな？

1

2

3

4

5

6


7

8

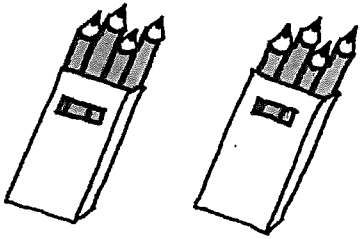
9

かぞ
数えかたのことば


(1) ぜんぶでいくつ? ○には数を、□にはことばを入れよう。



りんごはぜんぶで ○ □

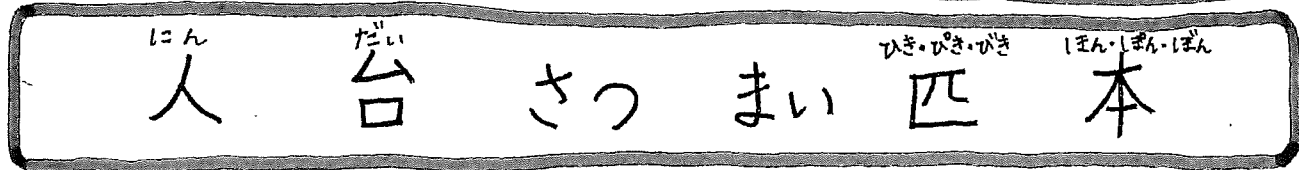



えんぴつはぜんぶで ○ □




うさぎの^{みみ}耳はぜんぶで ○ □

(2) 次のものは、どの^{かぞ}数えかたのことばをつかうかえらぼう。



(3) 数字のよみかたにも^き気をつけて^{かぞ}数えかたをかこう。



子どもが(4) □ います。



バスが(1) □ ^{はし}走っています。



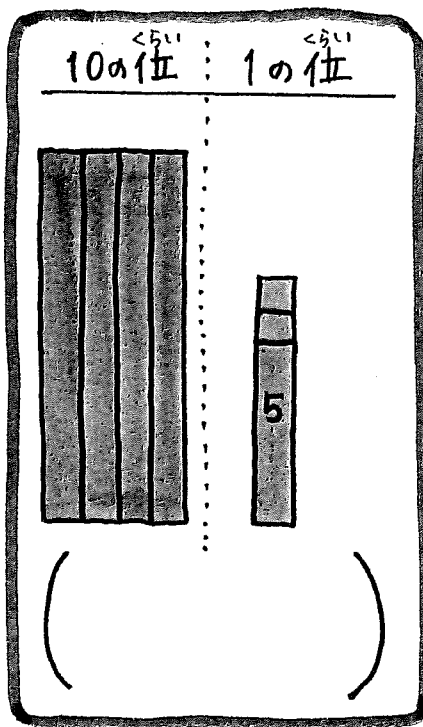
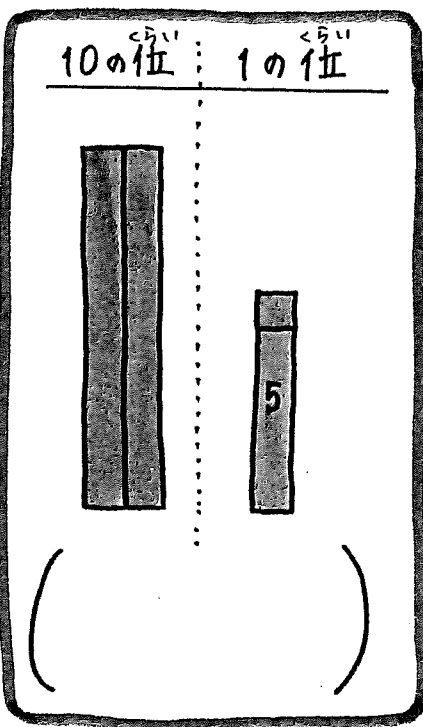
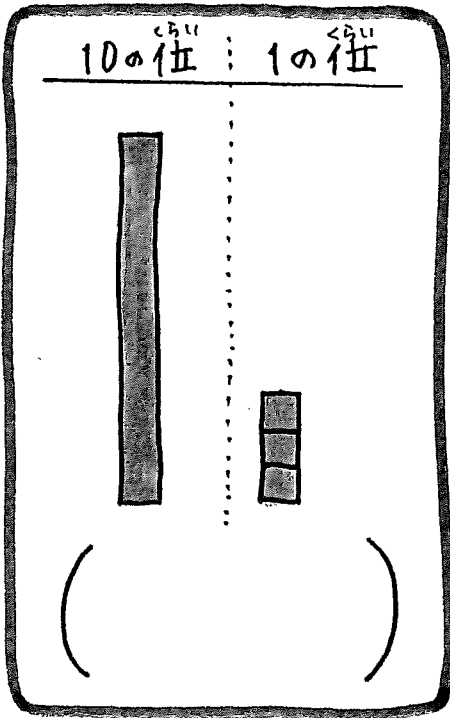
^{さかな}魚が(4) □ います。



^{ほん}本を(1) □ よみました。

<small>とらいい</small>
タイルと位取り

(1) タイルを<small>すうじ</small>にしよう。



(2) <small>おなじかたみ</small>数のタイルを見つけよう。

12 20 21 36

