

たし算 ざん

(1) あわせていくつ?

りんご ご

あわせて ご

みかん かん

あわせて かん

(2) あわせていくつ?

とり わ

あわせて わ

こども にん

あわせて にん

(3) あわせていくつ?

ひき ひき

あわせて ひき

ほん ほん

あわせて ほん

たし算 ざん

(1) きごうをれんしゅう

あわせていくつ?



$$\Rightarrow +$$

たす



同じ




$$\Rightarrow =$$

は

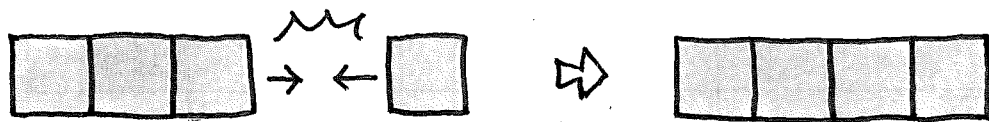


(2) よみかたをかこう。



$$2 + 3 = 5$$

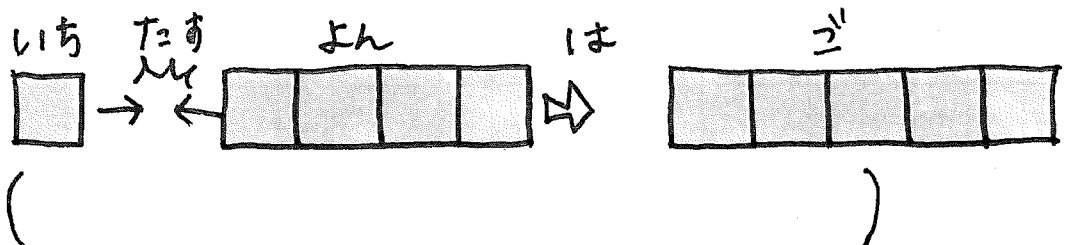
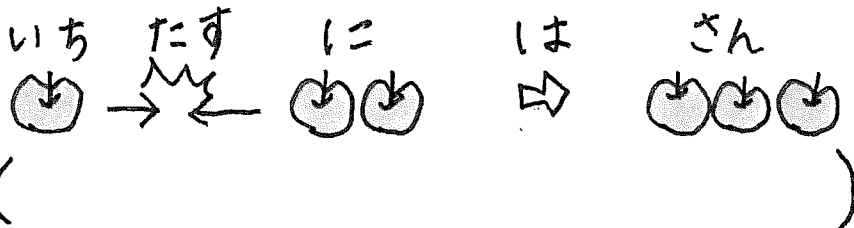
() () () () ()



$$3 + 1 = 4$$

() () () () ()

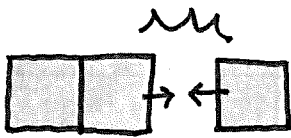
(3) 式にしよう。



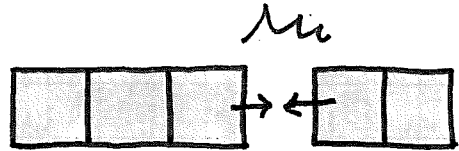
さん
たし算

(1) タイルを見ながらといてみよう。

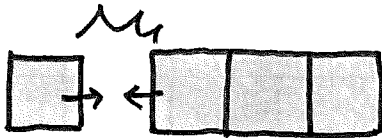
$2 + 1 = \underline{\quad}$



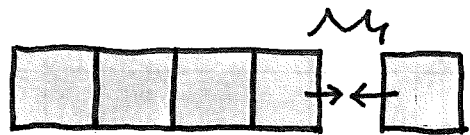
$3 + 2 = \underline{\quad}$



$1 + 3 = \underline{\quad}$

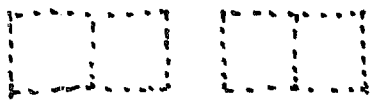


$4 + 1 = \underline{\quad}$

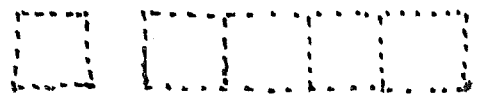


(2) タイルなしでやってみよう。(自分でタイルをかいてもいいよ。)

$2 + 2 = \underline{\quad}$



$1 + 4 = \underline{\quad}$



$3 + 1 = \underline{\quad}$

$2 + 3 = \underline{\quad}$

$2 + 2 = \underline{\quad}$


$1 + 1 = \underline{\quad}$


たし算 さん

(1) たし算できるのかな? ○×をつけよう。


①  ○


②  ○


③  ○


④  ○

(2) 1 + 3 の問題 おんたい をつくりました。でもとけるのかな?

① ショートケーキ1ことチョコケーキ3こ
あわせてケーキは なん 何こ? 

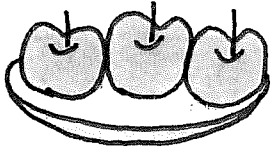
② 1まいのおさらには3まいのクッキーをのせると
か くわ 加えて なん 何まい? 

③ ストロ ほん ー1本とジュース ほん 3本
あ なんほん わせて何本? 


④ 1わの くわ すずめ なん がいました。3わや なん っていると
か くわ 加えて何わ? 

ひき算 さん


(1) のこりはいくつ？




りんご こ



こ




のこりは こ



あめ ほん




ほん




のこりは ほん


(2) のこりはいくつ？




こども じん



人




のこりは じん



おりがみ まい



まい



のこりは まい

さん

ひき算

(1) きごうをれんしゅう

のこりはいくつ?



.....

(2) よみかたをかこう。

$4 - 1 = 3$
 () () () () ()

$5 - 3 = 2$
 () () () () ()

(3) 式にしよう。

さん ひく いち \Rightarrow は \Rightarrow に

 () () () () ()

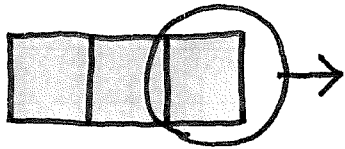
さん ひく さん \Rightarrow は \Rightarrow いち

 () () () () ()

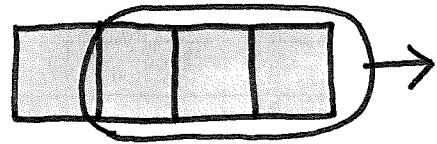
ひき算

(1) タイルを見ながらといてみよう。

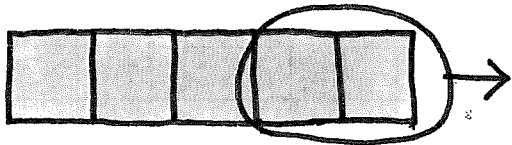
$3 - 1 = \underline{\quad}$



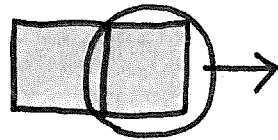
$4 - 3 = \underline{\quad}$



$5 - 2 = \underline{\quad}$



$2 - 1 = \underline{\quad}$



(2) タイルなしでやってみよう。(自分でタイルをかいてもいいよ。)

$4 - 2 = \underline{\quad}$



$5 - 1 = \underline{\quad}$



$5 - 3 = \underline{\quad}$


$4 - 1 = \underline{\quad}$

$3 - 2 = \underline{\quad}$

$5 - 4 = \underline{\quad}$

ひき算

(1) ひき算の場面を見て、合う文を選ぼう。



- (a) バニラとチョコのアイスがあります。3本はチョコです。のりのバニラは何本でしょう。
- (i) チョコアイスが3本、バニラアイスが2本あります。どちらが何本多いでしょう。
- (u) アイスが5本ありました。2本食べてしまいました。のりは何本?

(2) 3-1の問題をつくりました。でもとけるのかな?

(a) 3びき(市)のうさぎと1本のにんじん
ちがいはいくつ?

(i) 3のアメが入っている缶を1にあげたら
のりは何ニ?

(u) 3人の子どものうち1人が男の子。
のりの女の子は何人?